

文部科学省後援 平成 25 年度前期

ビジネス能力検定 ジョブパス

<実施 平成 25 年 7 月 7 日 (日) >

(説明時間 11:20 ~ 11:30)
(試験時間 11:30 ~ 13:00)

- ・試験問題は試験監督者の指示があるまで開かないでください。
 - ・解答用紙(マークシート)への必要事項の記入は、試験監督者の指示があるまで行わないでください。
-
- ・机の上には、受験票および筆記用具以外は置かないでください。電卓、辞書、参考書等の使用はできません。
 - ・この試験問題は 19 ページあります。試験監督者の指示と同時にページ数を確認してください。乱丁等がある場合は、手をあげて試験監督者に合図してください。
 - ・試験監督者の指示と同時に、解答用紙(マークシート)に、受験者氏名・受験番号(下 11 桁)を記入し、受験番号下欄の数字をぬりつぶしてください。正しく記入されていない場合は、採点されませんので十分注意してください。
 - ・試験問題は、すべてマークシート方式です。正解と思われるものを 1 つ選び、解答欄の () を HB の黒鉛筆でぬりつぶしてください。ボールペン等、鉛筆以外を使用した場合は採点されません。また、2 つ以上ぬりつぶすと、不正解になります。
 - ・試験問題についての質問には、一切答えられません。
 - ・試験中の筆記用具の貸し借りは一切禁止します。
 - ・試験を開始してから 30 分以内および試験終了 5 分前以降の退場はできません。30 分経過後退場する場合は、もう一度、受験者氏名・受験番号・マークが記入されているか確認し、試験監督者の指示に従って退場してください。(再入場不可) 試験問題は持ち帰ってください。
 - ・合否の発表は平成 25 年 8 月中旬の予定です。合格者へは合格証を同封します。
 - ①団体受験の方は、団体経由で合否を通知します。
 - ②個人受験の方は、受験票に記載された住所に郵送で合否を通知します。
 - ③合否結果についての電話・手紙等でのお問い合わせには、一切応じられません。

問題 1. 次のビジネスおよび社会一般に関する問に答えよ。

(1) お客様のニーズを引き出す話法には、質問法、Yes-But 法、引例法がある。次の会話の内容に該当する組み合わせとして、適切なものを選択肢から選べ。

- ① “おかげさまで、発売以来 5 千名のお客様にご愛用いただいております。よろしければサンプルをお送りしましょうか。”
- ② “お高いとのことですが、この新商品と従来の商品とを、品質と効能で比較なさってはいかがでしょう。”
- ③ “たしかにお安くはありません。しかし、今ご希望されていることが実現できるならば、ご納得いただけるのではないのでしょうか。”

【選択肢】

	①	②	③
ア.	質問法	引例法	Yes-But 法
イ.	引例法	質問法	Yes-But 法
ウ.	Yes-But 法	質問法	引例法

(2) 次の損益計算書の一例の に入れるべき字句の組み合わせとして、適切なものを選択肢から選べ。

単位 億円

売上高	110
売上原価	75
	35
販売費及び一般管理費	10
<input type="text"/> ①	25
営業外収益	5
営業外費用	8
<input type="text"/> ②	22
特別利益	0
特別損失	2
	20
法人税・住民税及び事業税	5
	15

(注) 網掛け部分は表示していない。

【選択肢】

	①	②
ア.	売上総利益	経常利益
イ.	経常利益	営業利益
ウ.	営業利益	経常利益

(3) 情報システムにおける情報の交換や利用に関して、以下の説明に該当する字句の組み合わせとして、適切なものを選択肢から選べ。

- ①特定のメンバーがインターネット上で情報交換ができるサービスの総称。
- ②従業員がもつ知識やスキルに関する情報を企業内で共有し、企業活動に活用して経営効率を高める手法。

(情報システムの用語)

- ・データベースマネジメントシステム (DBMS) ・SNS (Social Networking Service)
- ・電子データ交換 (EDI) ・ナレッジマネジメント (KM Knowledge Management)

【選択肢】

	①	②
ア.	SNS	DBMS
イ.	EDI	DBMS
ウ.	SNS	KM

(4) 海外の企業と取引をする日本企業への為替相場の影響に関して、以下の要件による円の状況の組み合わせとして、適切なものを選択肢から選べ。

- ①米ドル建で契約している日本の輸出企業の円での売上金額が減少する。
- ②輸出品の米ドル建価格が下がる。
- ③海外から輸入する製品の価格が下がる。

【選択肢】

	①	②	③
ア.	円高	円安	円高
イ.	円安	円高	円安
ウ.	円高	円高	円高
エ.	円安	円安	円安

(5) 次の万能細胞に関する記述中の□①□に入れるべき字句の組み合わせとして、適切なものを選択肢から選べ。

万能細胞（胚性幹細胞）とは、受精卵のように血液や内臓、筋肉、骨などあらゆる細胞に分化する能力のある細胞のことである。このうち□①□細胞は、人の卵子から作製されるが、京都大学の山中教授によって開発された□②□細胞は、人の皮膚から作製でき□①□細胞に劣らぬ能力をもつ人工多能性幹細胞である。患者自身の皮膚から作製できることから、多くの疾患に対する細胞移植療法につながるものと期待されている。

【選択肢】

	①	②
ア.	iPS	ES
イ.	PS	iPS
ウ.	ES	iPS

問題 2. 次のビジネスの基本事項と実践方法に関する問に答えよ。

- (1) 次のキャリアマネジメントに関する理念や方法として、最も適切なものを選択肢から選べ。

【選択肢】

- ア. 会社の人材育成計画に基づいて従業員個々のキャリア向上を図るものなので、自分のキャリアは自分で築き上げるという意識を持つ必要がない。
- イ. キャリア形成のために仕事に取り組む姿勢として、“その仕事の責任は自分にある”、“その仕事は自分が最後までやりきる”、という当事者意識が大切である。
- ウ. 対人スキルの折衝能力は、利害関係が一致する相手に限定して、懸案事項を解決する経験を積むことで向上する。

- (2) 次の株式会社の機能や役割に関する記述のうち、適切な組み合わせを選択肢から選べ。

- ① 株式会社は、株式を販売することで得た資金をもとに運営されるが、株主に対しては、元金と利息の返済義務がある。
- ② 株式会社の最高意思決定機関は株主総会であり、定款の改定、取締役や役員の選出、利益の処分方法などを決議する。
- ③ 株式会社は、会社を所有する株主が経営を監視し、社長に代表される取締役会で経営に関する重要な意思決定を行う。
- ④ 株式会社の組織形態は、会社法の規定によって職能別組織または事業部制組織のいずれかでなければならない。

【選択肢】

ア.	①・②・③
イ.	②・③
ウ.	②・③・④

- (3) 顧客満足度を向上させる基本的な対応方法として、最も適切なものを選択肢から選べ。

【選択肢】

- ア. お客様の満足度は、お客様の「事前期待」と「実績評価」の差が小さい時に最も高まる。
- イ. お客様に対するサービスは、お客様の購入金額に応じて、その都度サービスのレベルを変えることで満足度が高まる。
- ウ. すぐに自社の実績につながらなくても、お客様のためを考えた姿勢であれば信頼が深まり、結果として満足度も高まる。

(4) コンサルティング・セールスの手順として4つのステップがある。その4つのステップごとに必要とされる能力の組み合わせとして、最も適切なものを選択肢から選べ。

- ①お客さまと折衝して商談の契約条件をつめてゆくネゴシエーション能力。
- ②お客さまがかかえる問題点を自社のノウハウによって解決策を具体化するプランニング能力。
- ③ビジネスプランを作成してお客さまに提示するプレゼンテーション能力。
- ④お客さまの関心や要望を聞き出すインタビュー能力。

【選択肢】

	ステップ1	ステップ2	ステップ3	ステップ4
ア.	①	②	④	③
イ.	②	④	①	③
ウ.	③	④	①	②
エ.	④	②	③	①

(5) マネジメントの基本的な手法であるPDCAサイクルのうち、“C”の段階で実践するものとして、最も適切なものを選択肢から選べ。

【選択肢】

- ア. 業務遂行の結果によって明らかになった問題点の改善策を立案する。
- イ. あらかじめ設定してある評価目標をもとに、計画と実績の差異を把握し評価する。
- ウ. 社内外の状況や環境を把握し、業務遂行のための役割分担と責任範囲を決める。
- エ. 業務遂行の状況を常時把握し、その進捗状況を的確に管理する。

問題3. 次のビジネス活動に関する問に答えよ。

- (1) 次の裁量労働制に関する記述中の [] に入れるべき字句の組み合わせとして、適切なものを選択肢から選べ。

裁量労働制とは、従業員の実際の労働時間に関わらず、 [①] であらかじめ合意した時間数を働いたとみなす制度であり、所轄の [②] に届け出が必要である。業務の性質上、雇用者側が従業員の業務遂行に関して直接に指示することが困難な業務に用いられている。研究開発業務や [③] などが該当する。

【選択肢】

	[①]	[②]	[③]
ア.	労使協定	労働基準監督署	取材・編集業務
イ.	雇用契約	厚生労働省	デザイン業務
ウ.	請負契約	社会保険事務所	訪問販売業務

- (2) 次のマーケティング活動に関する記述中の [] に入れるべき字句の組み合わせとして、適切なものを選択肢から選べ。

マーケティング活動の手法に「4P」がある。「4P」とは、市場調査によってターゲットに設定した顧客への販売戦略を [①] の視点に立って立案する場合に必要な4つの要素である。それは、Products(製品)、Price(価格)、 [②]、Promotion(広告・宣伝)である。

【選択肢】

	[①]	[②]
ア.	売り手と買い手	Patent(専売特許)
イ.	買い手	Perfection(完全性)
ウ.	売り手	Place(流通方法)

- (3) プロジェクトチームの役割と特徴に関する説明として、適切なものを選択肢から選べ。

【選択肢】

- ア. 日常的な課題を解決するために、人材派遣会社からの人材で一時的にチームを編成し、通常業務の支援活動を行う。
- イ. 長期的な経営課題を解決するために、経営者直属のチームとして恒久的に組織し、業務監査を行う。
- ウ. 特定の課題を解決するために、社内の各部署から選任されて一時的にチームを編成し、課題解決後にはチームを解散する。
- エ. 複合的な課題を解決するために、所属部門の業務とチームとしての業務とを兼務しながら業務活動を行う。

- (4) ある個人情報取扱事業者が、新規事業の開拓のためにアンケート調査の実施を計画した。調査票には、主旨と目的を明記し、氏名・年齢・性別・職業を記入する欄を設定することにした。次の個人情報保護法に関する行為として、不適切なものを選択肢から選べ。

【選択肢】

- ア. アンケート調査のペーパーレス化のために、自社の Web サイトに調査票の入力画面を表示して実施する。
- イ. 調査の手間と経費とを考慮して、アンケート調査の専門企業に委託して実施し、調査の分析データと回答者の個人情報を文書で受け取る。
- ウ. アンケート調査を実施した後、収集したデータの利用範囲を広げるために、個人情報を含めたデータを、暗号化して関連企業にインターネットで転送する。

- (5) 信用取引に関する手形と小切手の説明として、最も適切なものを選択肢から選べ。

【選択肢】

- ア. 手形は、債権の当事者である受取人が、券面の裏側に氏名や住所などを記入する必要があるため、受取りの権利は第三者には譲渡できない。
- イ. 手形の一つである為替手形は、手形の振出人が直接支払うのではなく、売掛債権をもつ取引先に支払いを委託するものである。
- ウ. 小切手は、振出人が振り出すと券面上に記載されている振出日に従って、現金化することができる。

問題 4. 次の統計分析と問題解決に関する問に答えよ。

次の統計データの分析に関する記述中の□□□□に入れるべき字句として、適切なものを選択肢から選べ。

ビジネスにおいて、過去のデータを分析し将来を予測するためには、データの特徴をとらえて、そのパターンや規則性を発見する必要がある。

そのためには、

- ① □□(1)□□を見る：過去から現在までのデータの推移を分析する。
- ② □□(2)□□の関連を見る：データどうしの関連性を調べて、□□(2)□□関係がないかを分析する。
- ③ □□(3)□□を見逃さず、とらわれすぎない：標準分布から離れている□□(3)□□は、因果関係や標準分布への影響があるかどうかを検討する。

【(1)～(3)の選択肢】

- ア. 異常値 イ. 正常値 ウ. 個々 エ. 相互 オ. 傾向
カ. 未来 キ. 過去 ク. 分岐点

(4) ブレーンストーミングの特徴として、適切なものを選択肢から選べ。

【選択肢】

- ア. 問題解決に貢献すると思われるアイデアを熟慮してから慎重に発言する。
イ. 他の人の発言が自分の意見と異なるときは率直に批判してもよい。
ウ. 発言しようとする内容が本論と関連性がなくても自由奔放に発言をする。
エ. 他の人の発想の違いに配慮して便乗したり結合したりする発言は差し控える。

(5) 次のMECE(ミ-シ- Mutually Exclusive and Collective Exhaustive)の用例の図中のaの部分に該当する字句として、最も適切なものを選択肢から選べ。

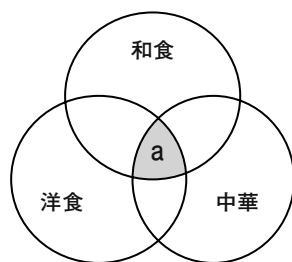


図 好きな食事

[図の見方]

- ①ある要素を円で表す。
- ②円どうしの重なった状態と塗りつぶした部分によって、要素間の論理的な関係を表している。

【選択肢】

- ア. 和食と洋食が好き。 イ. 中華と洋食が好き。
ウ. 和食と中華が好き。 エ. 和食と洋食と中華が好き。

問題 5. 次の新聞記事を読んで問に答えよ。

(朝日新聞 2012.11.21)

原文は、著作権の問題上、掲載できません

(1) 次の日中韓 FTA(自由貿易協定)の状況に関する記述について、最も適切なものを選択肢から選べ。

【選択肢】

- ア. FTA 交渉は、関税の全面的な撤廃を前提としており、約 10 年後に日本の GDP を 20.5%押し上げると予想されている。
- イ. 韓国は、中国での知的財産権の保護で日本と協調していく方針であり、そのため日韓 2 カ国間の交渉を先行させる。
- ウ. 日本は、中国市場において日系企業が自由に投資できる環境を整備し、中国は日韓の投資を増やし経済成長を維持するねらいがある。

(2) 次の RCEP (包括的経済連携協定)の状況に関する記述について、最も適切なものを選択肢から選べ。

【選択肢】

- ア. RCEP は、日本、ASEAN 諸国など 16 カ国が貿易の活性化をはかろうとするもので、すでに ASEAN 諸国の域内での関税は実質ゼロになっている。
- イ. RCEP を主導しているのは、ASEAN 諸国と日本及び中国であり、ASEAN 諸国は域外圏に高いレベルの市場開放を求める構えである。
- ウ. RCEP の経済効果は、世界の GDP に占める割合が 38.2%、域内貿易の割合が 41.6%になると見込まれている。

(3) 次の TPP (環太平洋経済連携協定)の状況に関する記述について、最も適切なものを選択肢から選べ。

【選択肢】

- ア. TPP はすでに 11 カ国間で協定が締結されており、開発途上国に配慮した協定によって、人口 15 億人にのぼる域内での貿易の活性化を目指している。
- イ. アメリカが中心となり 11 カ国の間で協定の交渉が進められており、関税の原則撤廃を前提として、2013 年中の妥結を目指している。
- ウ. TPP の経済効果は、日本との貿易総額が 8000 億ドルと見込まれており、特に自動車分野での市場開放が期待されている。

問題を読みやすくするために、この
ページは空白にしています。

(4) 次の FTA、RCEP、TPP の三つの通商交渉の比較に関する記述として、最も適切なものを選択肢から選べ。

【選択肢】

- ア. 三つの通商交渉のうちで、参加国数と人口が最も多いのは RCEP であるが、日本との貿易総額が多いのは FTA である。
- イ. 三つの通商交渉のうちで、アジアの国々の間でのみ協定が結ばれるのは、FTA と RCEP であり、いずれも 2015 年末の締結を目指している。
- ウ. 三つの通商交渉のうちで、日本との貿易総額および約 10 年後の GDP の伸び率が最大であるのは RCEP であり、最小であるのは TPP である。

(5) 次の三つの通商交渉について総括した記述中の に入れるべき字句の組み合わせとして、適切なものを選択肢から選べ。

日本が、アジアを中心とする国々と巨大な経済圏をつくる構想を実現するための、三つの通商交渉が進展しようとしている。

日本は、 ① では、韓国と共に中国の市場開放、また ② では、世界の GDP の 38.2% を占める市場での貿易の拡大、さらに ③ では、東南アジアを中心とした貿易の拡大を目指している。

【選択肢】

	<input type="text"/> ①	<input type="text"/> ②	<input type="text"/> ③
ア.	RCEP	日中韓 FTA	TPP
イ.	TPP	RCEP	日中韓 FTA
ウ.	日中韓 FTA	TPP	RCEP

問題6. 次のケースを読んで問に答えよ。

株式会社ベスト・カー・ライフは、都内に20店舗を展開する乗用車のディーラーである。大林健二は、品川営業所の営業部に入社して4年目の中堅社員であり、部内では常に上位の販売実績がある。

この日も来店されているお客さまは多く、出勤している営業担当は休む暇もなく接客に追われていた。

大林が当店のユーザである上田様の応対が終わり、一息入れていたとき、店内を見ていたお客さま（澤田様夫妻）から声をかけられた。

澤田「すみません、ちょっといいですか？」

大林「いらっしゃいませ。お客さま、何かお尋ねでしょうか？」

澤田「ええ、車のことで相談したいんですけど。」

大林「承知しました。ではあちらで承ります。」

大林はお客さまを商談コーナーにご案内し、受付の担当にお客さまの飲み物を頼んでから、テーブルについた。

大林「ご来店まことにありがとうございます。私は営業担当の大林と申します。よろしく申し上げます。」

自分の名刺を差し出し着席した。

(1) 大林が澤田夫妻に対する商談に関して、最初の段階で商談を進めるために必要な確認事項の組み合わせとして、最も適切なものを選択肢から選べ。

- ① 澤田夫妻の年齢を率直に質問する。
- ② 澤田夫妻の住所を聞き出しメモを取る。
- ③ 澤田夫妻の名前を確認する。
- ④ 来店の用件について確認する。
- ⑤ 下取りする車があるか否かを質問する。
- ⑥ 澤田夫妻の運転歴について質問する。
- ⑦ 購入希望の車種があるか否かを聞き出す。

【選択肢】

ア.	①・④・⑤・⑦
イ.	②・③・④・⑥
ウ.	③・④・⑦

その後商談が進んだ結果、澤田夫妻が新車を購入するポイントが明らかになってきた。

- ・購入予算は、下取り価格を含め250万円以下で考えている。
- ・所有している車は、他社メーカー(A社)のセダンタイプの車種で5年経過している。
- ・家族6人でドライブできるワゴンタイプの車種を希望している。
- ・奥さまが買い物で運転する頻度が最も高い。
- ・A社のワゴンタイプの車種をすでに見てきており、その見積書を受け取っている。

希望する車種と予算が判明したので、大林は候補とする車種のカタログと価格表を用意し、ポイントとなる点を中心に澤田夫妻に説明を行った。続いて、ショールームのワゴン車コーナーに案内しプレゼンテーションを始めた。大林のプレゼンテーションの間、澤田夫妻の了承を得て、メカニック担当が営業所の駐車場に停めてある下取り対象の車の査定を行っている。

(2) 大林が候補として選んだ展示車の前で行うプレゼンテーションのあり方として、最も適切なものを選択肢から選べ。

【選択肢】

- ア. A社の車の性能面で優れている点にも触れながら、自社の車の走行性能とオプション機能を中心に説明し、大林が乗りこんで操作を実演する。
- イ. A社の車の特徴を限定的に触れながら、自社の車の操作性と安全性を中心に説明し、夫妻に乗っていただき操作を体感してもらう。
- ウ. A社の車には全く触れず、自社の車のハンドル操作の容易さを中心に説明し、夫妻に乗っていただき操作を体感してもらう。

澤田夫妻への展示車のプレゼンテーションを終え、再び商談コーナーへ案内した。澤田夫妻の感触はなかなか良いようであった。そこで大林は見積書を作成したいと提案し、澤田夫妻の了承を得て、自分の机のパソコンで2種類の見積書を作成することにした。

(3) 大林が見積書を作成するにあたって、2種類の見積書の内容の組み合わせとして、最も適切なものを選択肢から選べ。

- ①性能面で澤田夫妻の希望を若干満たしていないが、値引き金額と下取り金額を含む合計価格が250万円以内に収まるワゴンタイプのもので見積る。
- ②装備と性能面で澤田夫妻の希望を満たしているが、値引き金額と下取り金額を含む合計価格が250万円を多少上回るワゴンタイプのもので見積る。
- ③装備と性能面で澤田夫妻の希望よりもグレードが高いが、値引き金額と下取り金額を含む合計価格が250万円を上回る販売促進対象車のセダンタイプのもので見積る。

【選択肢】

ア.	①と②
イ.	①と③
ウ.	②と③

大林が見積書を作成して商談コーナーにもどり、澤田夫妻に提示したところ、前向きな反応を示した見積書は、A社の合計金額よりも10万円超過していることが判明した。

澤田夫妻は、金額がA社より低ければ購入したい様子である。だが、大林が許されている値引き限度額では、提示している値引き金額に加えてさらに10万円の値引きができないので、店長の下山の許可を得る必要がある。しかし、すでに下山は外出していて連絡がとれず、すぐには許可の確認ができない状況になってしまった。

問題を読みやすくするために、この
ページは空白にしています。

(4) 大林がこの状況でとるべき対応として、最も適切なものを選択肢から選べ。

【選択肢】

- ア. 受注を急ぐため、自分の判断でさらに10万円の値引きの提示をし、上司の許可は後で得るようにする。
- イ. 受注を急ぐため、自分の判断で下取り査定金額を変更して、下取り金額を10万円多く提示する。
- ウ. 澤田夫妻に状況を説明し、下山の許可を取った後、金額をただちに電話で連絡し、後日、見積書をお届けすることを約束しお帰りいただく。

閉店後の営業会議では、次のようなやり取りがあった。

下山「本日もお疲れさまでした。本日のお客さまに対して、この場で解決する必要がある報告事項があれば言って下さい。」

大林「長年当店のユーザーになっていただいている上田さまが見えられ、車の不具合や装備品の使用方法などの問い合わせの方法について要望がありました。営業担当は店内にいない場合が多いので、営業以外でもすぐに対応できるようにして欲しいとおっしゃっていました。」

会議の結果、営業部内に担当者を置いて、常時お客さまの質問に答えられる相談窓口を設置することになり、その準備担当として大林が選任された。

(5) 大林が行う準備作業の順序として、最も適切なものを選択肢から選べ。

- ① 窓口の電話番号および役割をお客さまへ連絡し宣伝する。
- ② 窓口の電話番号および役割を社員へ周知徹底する。
- ③ 窓口の存在をお客さまにお知らせするためのパンフレットを作成する。
- ④ 窓口設置場所の選定および必要機材の手配をする。
- ⑤ 営業部への説明および窓口担当者の選定を依頼する。

【選択肢】

ア.	③→④→⑤→①→②
イ.	④→③→⑤→②→①
ウ.	⑤→③→④→②→①

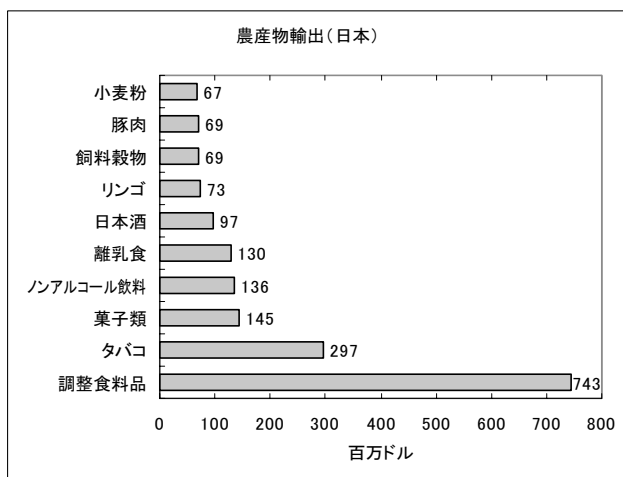
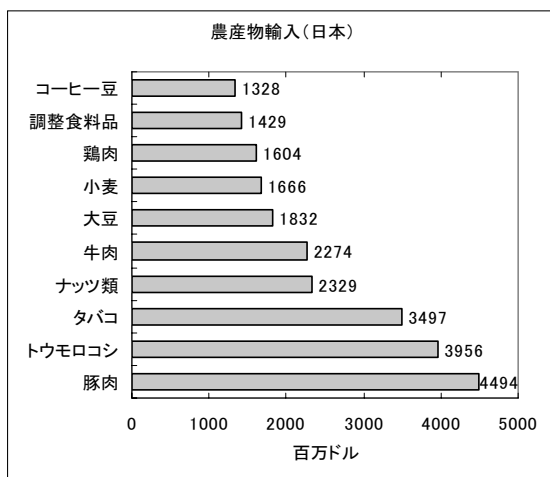
問題7. 次の資料1～3は、世界の主な国々の農産物の輸出入の状況を示したものである。
これを見て各問に答えよ。

〈資料1〉各国の農産物トップ10の輸入額と輸出額

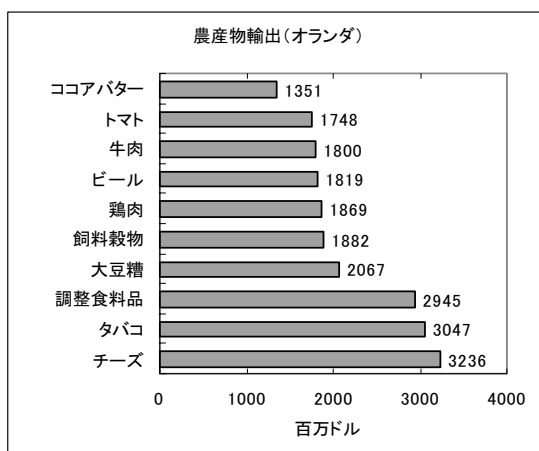
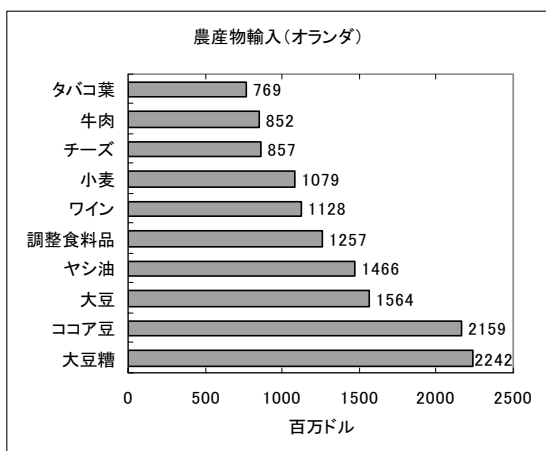
単位(百万ドル)

2010年	輸入	輸出
日本	24,409	1,826
中国	51,126	12,078
オランダ	13,373	21,764
ドイツ	20,591	26,194
フランス	13,789	29,739

〈資料2〉日本の農産物の輸入品と輸出品のトップ10



〈資料3〉オランダの農産物の輸入品と輸出品のトップ10



* データは国際連合食料農業機関のFAO STATを参照

(1) 〈資料1〉の説明として、不適切なものを選択肢から選べ。

【選択肢】

- ア. 日本は、輸入額に比べ輸出額が低いのが顕著であり、大幅な輸入超過の状況になっており、その額は225億8,300万ドルに達している。
- イ. 中国は、輸入額が輸出額の約3倍になっており、農業生産高が低く工業生産が主体になっていることを表している。
- ウ. フランスは、輸出額が輸入額よりも159億5,000万ドル多くなっており、農産物の輸出が外貨獲得に貢献している。
- エ. ドイツは、輸出額が輸入額の約1.3倍であり、他国と比べて農産物の輸出と輸入のバランスがとれている。

(2) 〈資料2〉に関する記述中の□□□□に入れるべき字句の組み合わせとして、適切なものを選択肢から選べ。

日本は、輸入では各農産物の輸入額がいずれも輸出の各農産物の輸出額を上回っている。輸出では、調整食料品の輸出額が突出しており、全体として□□①の農産物が多い状況にある。また、輸出と輸入の両方にあるタバコは、輸出額が輸入額よりも□□②少なくなっている。

【選択肢】

	①	②
ア.	加工食品	3200万ドル
イ.	加工用食材	8億ドル
ウ.	加工用食材	12億ドル
エ.	加工食品	32億ドル

(3) 〈資料3〉に関する記述中の□□□□に入れるべき字句の組み合わせとして、適切なものを選択肢から選べ。

オランダの特徴は、輸出入のトップ10の農産物の中に□□①品目が多く見受けられ、一部を除き、その大半の品目は輸出が輸入を上回っている。これは、オランダの農業政策の一端をのぞくことができ、他国から安価で輸入し、国内で□□②をつけ、差別化した農産物として輸出しているものと考えられる。

【選択肢】

	①	②
ア.	生鮮	希少価値
イ.	共通	付加価値
ウ.	再生	永続価値

問題を読みやすくするために、この
ページは空白にしています。

次の記述中の□□□□に入れるべき最も適切な字句を選択肢から選べ。

〈資料2〉〈資料3〉から、日本とオランダでは、輸出入の差額を見ても明らかなおお、農産物に対する政策への考え方が大きく異なっていると思われる。

その一例として、オランダは、「アグリビジネス」と呼ばれる体制が機能している。これは農産物を生産する農家と、品種改良や生産方法などを研究する学術研究機関、および加工、流通、販売を行う□□(4)の3者を産業構造の一体としてとらえた、相互支援政策である。一方、日本は、「アグリビジネス」への関心はあるものの、品目および輸出額から見て、農産物の国際的な□□(5)を高めようという考え方よりも、国内農業の保護を優先した政策と考えられる。

【(4)の選択肢】

- | | |
|----------|---------------------|
| ア. 地方自治体 | イ. オランダ政府 |
| ウ. 民間企業 | エ. 国際連合食糧農業機関 (FAO) |

【(5)の選択肢】

- | | | |
|--------|--------|--------|
| ア. 生産力 | イ. 技術力 | ウ. 競争力 |
|--------|--------|--------|

<メモ欄>

<メモ欄>

